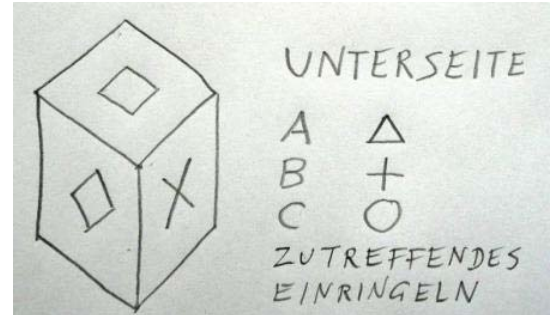
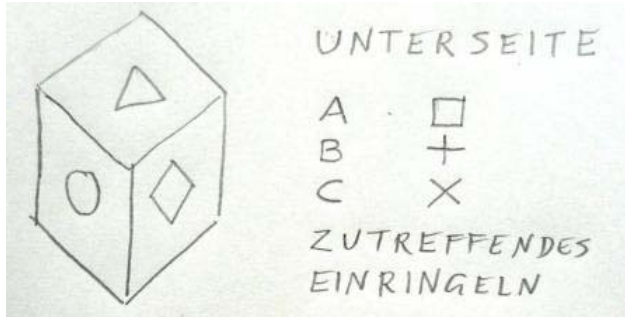
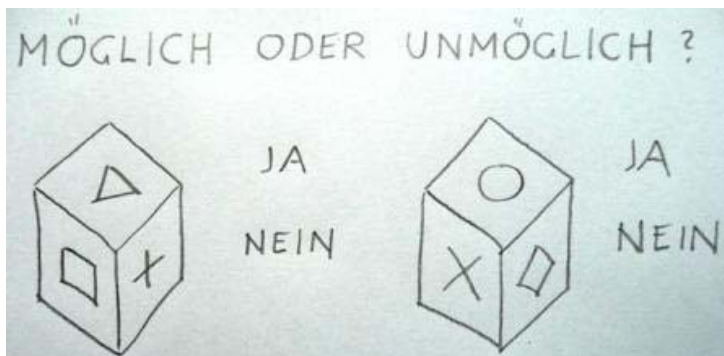


ARBEITSBLATT 1

1.1. Versuche ausgehend von der Abb. 1.3.(Würfelnetz) das gefragte Symbol herauszufinden.



1.2. Kann der jeweils dargestellte Würfel aus dem Würfelnetz der Abb. 1.3. gebaut werden?
Zutreffendes einringeln !



1.3. Würfelnetz zum Nachbauen. Übertrage die Vorlage laut Anleitung auf den Karton und baue ihn zusammen. Zuvor wie angezeichnet beschriften!

